

Lösungen zur SMO Finalrunde 2006

1. Bestimme alle positiven reellen Lösungen des folgenden Gleichungssystems:

$$\begin{aligned} a &= \max\left\{\frac{1}{b}, \frac{1}{c}\right\} & b &= \max\left\{\frac{1}{c}, \frac{1}{d}\right\} & c &= \max\left\{\frac{1}{d}, \frac{1}{e}\right\} \\ d &= \max\left\{\frac{1}{e}, \frac{1}{f}\right\} & e &= \max\left\{\frac{1}{f}, \frac{1}{a}\right\} & f &= \max\left\{\frac{1}{a}, \frac{1}{b}\right\} \end{aligned}$$

1. Lösung

Wegen der zyklischen Symmetrie des Systems können wir annehmen, dass a maximal ist unter allen sechs Zahlen. Daraus folgt direkt

$$f = \max\left\{\frac{1}{a}, \frac{1}{b}\right\} = \frac{1}{b}, \quad e = \max\left\{\frac{1}{f}, \frac{1}{a}\right\} = \frac{1}{f} = b, \quad d = \max\left\{\frac{1}{e}, \frac{1}{f}\right\} = \max\left\{b, \frac{1}{b}\right\}.$$

Wir unterscheiden nun zwei Fälle:

(1) Sei $b \geq 1$. Dann gilt $d = b$ und man erhält

$$c = \max\left\{\frac{1}{a}, \frac{1}{e}\right\} = \frac{1}{b}, \quad a = \max\left\{\frac{1}{b}, \frac{1}{c}\right\} = \max\left\{b, \frac{1}{b}\right\} = b.$$

(2) Sei $b \leq 1$. Dann gilt $d = \frac{1}{b}$ und man erhält

$$c = \max\left\{\frac{1}{d}, \frac{1}{e}\right\} = \max\left\{b, \frac{1}{b}\right\} = \frac{1}{b}, \quad a = \max\left\{\frac{1}{b}, \frac{1}{c}\right\} = \frac{1}{b}.$$

Ein Vergleich der Resultate zeigt, dass beide Fälle dieselben Lösungen ergeben, bis auf einen zyklischen Shift. Es sind die zyklischen Vertauschungen von

$$(a, b, c, d, e, f) = \left(x, x, \frac{1}{x}, x, x, \frac{1}{x}\right), \quad x \geq 1.$$

Um zu zeigen, dass dies tatsächlich alle Lösungen sind, genügt es wiederum wegen der Symmetrie die Gleichungen für a und c zu bestätigen. Tatsächlich ist wegen $x \geq 1$

$$x = a = \max\left\{\frac{1}{b}, \frac{1}{c}\right\} = \max\left\{\frac{1}{x}, x\right\} = x, \quad \frac{1}{x} = c = \max\left\{\frac{1}{d}, \frac{1}{e}\right\} = \max\left\{\frac{1}{x}, \frac{1}{x}\right\} = \frac{1}{x}.$$

2. Lösung

Wegen der zyklischen Symmetrie können wir annehmen, dass a minimal ist unter allen sechs Zahlen. Dann folgt

$$f = \max\left\{\frac{1}{a}, \frac{1}{b}\right\} = \frac{1}{a}, \quad e = \max\left\{\frac{1}{f}, \frac{1}{a}\right\} = \frac{1}{a}, \quad d = \max\left\{\frac{1}{e}, \frac{1}{f}\right\} = a.$$

Insbesondere ist auch d minimal und wegen $a \leq f = \frac{1}{a}$ ist $a \leq 1$, daher gilt weiter

$$c = \max\{\frac{1}{d}, \frac{1}{e}\} = \frac{1}{a}, \quad b = \max\{\frac{1}{c}, \frac{1}{d}\} = \max\{a, \frac{1}{a}\} = \frac{1}{a}.$$

Die Lösungen sind also wie in der ersten Lösung die zyklischen Vertauschungen von

$$(a, b, c, d, e, f) = (x, \frac{1}{x}, \frac{1}{x}, x, \frac{1}{x}, \frac{1}{x}), \quad x \leq 1.$$

2. Seien a, b, c drei ganze Zahlen, sodass $a + b + c$ durch 13 teilbar ist. Zeige, dass auch

$$a^{2007} + b^{2007} + c^{2007} + 2 \cdot 2007abc$$

durch 13 teilbar ist.

1. Lösung

Ist x nicht durch 13 teilbar, dann gilt $x^{12} \equiv 1 \pmod{13}$ nach dem kleinen Satz von Fermat. Daraus folgt unmittelbar, dass für *alle* ganzen x gilt $x^{13} \equiv x \pmod{13}$. Wiederholte Anwendung dieser Gleichung liefert $x^{2007} \equiv x^3 \pmod{13}$ wegen $2007 = 167 \cdot 12 + 3$. Ausserdem gilt $2007 \equiv 10 \equiv -3$, der Ausdruck ist modulo 13 also gleich

$$a^3 + b^3 + c^3 - 3abc = (a + b + c)(a^2 + b^2 + c^2 - ab - bc - ca) \equiv 0.$$

2. Lösung

Der Beweis kann auch wie folgt beendet werden. Es gilt $c \equiv -(a + b) \pmod{13}$ und daher ist

$$a^3 + b^3 + c^3 - 3abc \equiv a^3 + b^3 - (a + b)^3 + 3ab(a + b) = 0.$$

3. Die Ebene wird in Einheitsquadrate unterteilt. Jedes Feld soll mit einer von n Farben gefärbt werden, sodass gilt: Können vier Felder mit einem L-Tetromino bedeckt werden, dann haben diese Felder vier verschiedene Farben (das L-Tetromino darf gedreht und gespiegelt werden). Bestimme den kleinsten Wert von n , für den das möglich ist.

Lösung

Je zwei der sieben Felder innerhalb der Figur links in Abbildung 1 können gleichzeitig mit einem L-Tetromino bedeckt werden. Diese Felder haben also verschiedene Farben, insbesondere ist $n \geq 7$. Nehme an, $n = 7$ sei möglich und färbe die Felder im Gebiet wie in Abbildung 1. Die beiden Felder rechts und links unterhalb des Gebiets müssen nun die Farben 1 und 3 haben, denn sonst liessen sich wieder zwei gleichfarbige Felder mit einem L-Tetromino überdecken. Genauso bestimmt man die Farbe der beiden anderen Felder rechts in Abbildung 1. Nun bleibt für das Feld mit der Markierung keine Farbe mehr übrig, Widerspruch. Ein Beispiel für $n = 8$ findet sich in Abbildung 2.

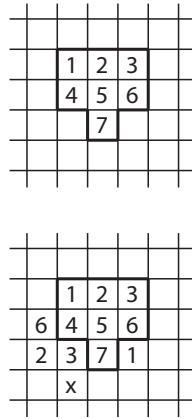


Abbildung 1: Es gilt $n \geq 8$.




Abbildung 2: $n = 8$ genügt.

4. Sei ABC ein spitzwinkliges Dreieck mit $AB > AC$ und Höhenschnittpunkt H . Sei D der Höhenfußpunkt von A auf BC . Sei E die Spiegelung von C an D . Die Geraden AE und BH schneiden sich im Punkt S . Sei N der Mittelpunkt von AE und sei M der Mittelpunkt von BH . Beweise, dass MN senkrecht auf DS steht.

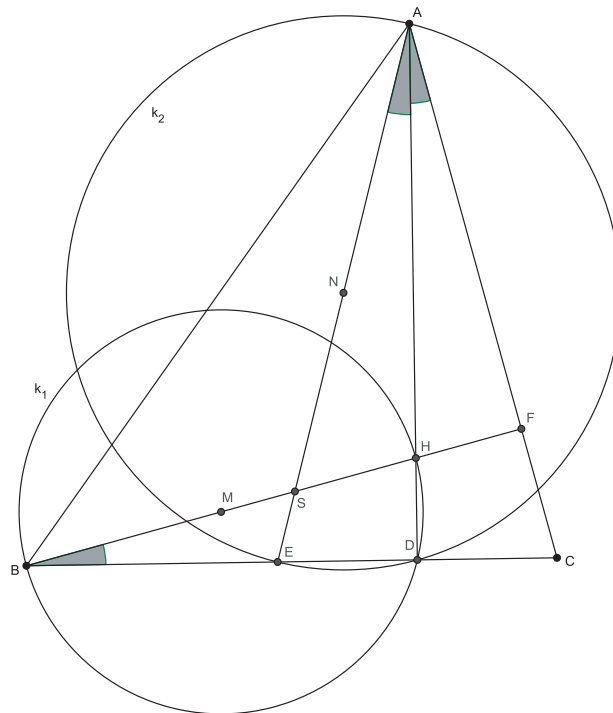


Abbildung 3: Figur zur Lösung von Aufgabe 4

1. Lösung

Nach Konstruktion ist das Dreieck AEC gleichschenkelig und wegen $AB > AC$ liegt D auf der Strecke BD (siehe Abbildung 3). Sei k_1 der Kreis mit Mittelpunkt M und Durchmesser BH und sei k_2 der Kreis mit Mittelpunkt N und Durchmesser AE . Wegen $\angle BDH = \angle EDA = 90^\circ$ liegt D sowohl auf k_1 als auch auf k_2 . Insbesondere liegt D auf der Potenzlinie der beiden Kreise. Weil allgemein die Potenzlinie von zwei Kreisen die Gerade durch deren Mittelpunkte rechtwinklig schneidet, genügt es zu zeigen, dass S auf der Potenzlinie von k_1 und k_2 liegt.

Sei $\angle EBH = \varphi$ und sei F der Höhenfusspunkt von B auf CA . Wegen $\angle BFC = 90^\circ$ gilt $\angle BCA = 90^\circ - \varphi$ und wegen $\angle CDA = 90^\circ$ gilt $\angle DAC = \varphi$. Das Dreieck AEC ist gleichschenkelig und deshalb $\angle EAH = \varphi = \angle EBH$. Damit ist gezeigt, dass $ABEH$ ein Sehnenviereck ist und die Potenz von S zu dessen Umkreis ist

$$SB \cdot SH = SE \cdot SA.$$

Damit ist gezeigt, dass S die gleiche Potenz zu k_1 und k_2 hat und somit auf deren Potenzlinie liegt.

2. Lösung

Wir zeigen, dass BH rechtwinklig auf DN und AE rechtwinklig auf DM stehen. Daraus folgt, dass S der Höhenschnittpunkt von Dreieck NMD ist und deshalb DS rechtwinklig auf MN steht.

Sei $\angle ACB = \gamma$ und sei F der Höhenfusspunkt von B auf CA . Weil Dreieck AEC gleichschenkelig ist, gilt $\angle AED = \gamma$. Wegen $\angle BFC = 90^\circ$ gilt $\angle CBF = 90^\circ - \gamma$. Der Thaleskreis über BH geht durch D und hat den Mittelpunkt M . Deshalb ist Dreieck MBD gleichschenkelig und $\angle MDB = 90^\circ - \gamma$. Aus $\angle MDB + \angle AED = 90^\circ$ folgt, dass AE rechtwinklig auf DM steht.

Der Thaleskreis über AE geht durch D und hat den Mittelpunkt N . Somit ist das Dreieck NED gleichschenkelig und $\angle NDE = \gamma = \angle ACB$. Die Gerade ND ist also parallel zu AC und wegen $\angle BFC = 90^\circ$ steht BH rechtwinklig auf AE .

3. Lösung

Wir führen Koordinaten ein und beweisen die Behauptung durch Rechnung. Wir wählen den Ursprung bei D . Die x-Achse liege auf BC , so dass B auf der positiven x-Achse und C auf der negativen x-Achse liegt. Zur Vereinfachung setzen wir: $DB = u$, $CD = v$ und $DA = w$. Analog wie in der 1. Lösung zeigen wir, dass $EBAW$ ein Sehnenviereck ist. Mittels Potenzsatz folgt nun, dass $DH \cdot DA = DE \cdot DB$. Formt man diese Gleichung um und verwendet, dass $CD = DE$ so erhält man $DH = \frac{uw}{w}$. Um die Behauptung zu beweisen, genügt es zu zeigen, dass das Produkt der Steigungen der Geraden DS und MN -1 ergibt. Wir berechnen zuerst die Steigung von DS . Die

Geradengleichungen von AE und HB lauten:

$$\begin{aligned} AE & : y = -\frac{w}{v}x + w, \\ HB & : y = -\frac{uv}{u}x + \frac{uv}{w}. \end{aligned}$$

Um die Steigung von DS zu bestimmen, müssen wir das Verhältnis $\frac{y}{x}$ berechnen. Dazu multiplizieren wir die erste Gleichung mit uv und die zweite mit $-w^2$ und addieren sie:

$$\begin{aligned} (uv - w^2)y & = (v - u)wx \\ \iff \frac{y}{x} & = \frac{(v - u)w}{uv - w^2} \end{aligned}$$

Als nächstes berechnen wir die Steigung von NM :

$$\frac{\frac{uv}{2w} - \frac{w}{2}}{\frac{u}{2} - \frac{v}{2}} = \frac{uv - w^2}{w(u - v)}$$

Wie gewünscht ergibt das Produkt der beiden Steigungen -1 . Damit ist alles gezeigt.

5. Bestimme alle Funktionen $f : \mathbb{R}_{\geq 0} \rightarrow \mathbb{R}_{\geq 0}$ mit folgenden Eigenschaften:

- (a) $f(1) = 0$,
- (b) $f(x) > 0$ für alle $x > 1$,
- (c) Für alle $x, y \geq 0$ mit $x + y > 0$ gilt

$$f(xf(y))f(y) = f\left(\frac{xy}{x+y}\right).$$

Lösung

Mit $y = 1$ folgt aus (a) und (c) für alle $x \geq 0$

$$0 = f(xf(1))f(1) = f\left(\frac{x}{x+1}\right).$$

Der Ausdruck $\frac{x}{x+1}$ nimmt alle Werte im Intervall $[0, 1[$ an, wenn x alle nichtnegativen reellen Zahlen durchläuft. Somit gilt zusammen mit (a)

$$f(x) = 0, \quad 0 \leq x \leq 1. \tag{1}$$

Für das Folgende nehmen wir stets $y \geq 1$ an. Wegen $f(y) \neq 0$ gilt $f(xf(y)) = 0$ genau dann, wenn $f\left(\frac{xy}{x+y}\right) = 0$. Wegen (1) gilt also auch

$$xf(y) \leq 1 \iff \frac{xy}{x+y} \leq 1 \iff x \leq \frac{y}{y-1}.$$

Mit anderen Worten, es gilt

$$f(y) \begin{cases} \leq \\ > \end{cases} z \quad \text{für alle } z \text{ mit } z \begin{cases} \geq \\ < \end{cases} 1 - \frac{1}{y}.$$

Daraus folgt unmittelbar $f(y) = 1 - \frac{1}{y}$ für alle $y > 1$. Die einzige Funktion, welche die Gleichung erfüllen kann, ist demnach

$$f(x) = \begin{cases} 0 & \text{für } 0 \leq x \leq 1, \\ 1 - \frac{1}{x} & \text{für } x > 1. \end{cases}$$

Wir zeigen nun, dass dies wirklich eine Lösung ist und unterscheiden dazu zwei Fälle.

- (1) Sei zunächst $\frac{1}{x} + \frac{1}{y} \geq 1$, dann gilt $\frac{xy}{x+y} \leq 1$ und somit ist $f\left(\frac{xy}{x+y}\right) = 0$. Ist $y \leq 1$, dann verschwindet auch $f(y)$ und die linke Seite der Gleichung ist ebenfalls 0. Ist $y > 1$, dann folgt $xf(y) = x\left(1 - \frac{1}{y}\right) \leq x \cdot \frac{1}{x} = 1$, also ist diesmal $f(xf(y)) = 0$ und die linke Seite der Gleichung verschwindet wieder.
- (2) Sei nun $\frac{1}{x} + \frac{1}{y} < 1$. Dann ist notwendigerweise $y > 1$ und dieselben Rechnungen wie im ersten Fall zeigt, dass auch $xf(y) > 1$ ist. Folglich gilt

$$\begin{aligned} f(xf(y))f(y) &= \frac{xf(y) - 1}{xf(y)} \cdot \frac{y - 1}{y} = \frac{x\frac{y-1}{y} - 1}{x\frac{y-1}{y}} \cdot \frac{y - 1}{y} = \frac{xy - x - y}{xy}, \\ f\left(\frac{xy}{x+y}\right) &= \frac{xy - x - y}{xy}, \end{aligned}$$

wie gewünscht. Damit ist alles gezeigt.

6. Drei gleich grosse Kreise k_1, k_2, k_3 schneiden sich nichttangential in einem Punkt P . Seien A und B die Mittelpunkte der Kreise k_1 und k_2 . Sei D bzw. C der von P verschiedene Schnittpunkt von k_3 mit k_1 bzw. k_2 . Zeige, dass $ABCD$ ein Parallelogramm ist.

1. Lösung

Sei M der Mittelpunkt von k_3 . Man betrachte das Viereck $PBCM$. Alle vier Seiten dieses Vierecks sind nach Voraussetzung gleich lang. Folglich ist $PBCM$ ein Rhombus und BC ist parallel zu PM . Analog kann gezeigt werden, dass AD parallel ist zu PM . Daraus folgt direkt, dass AD parallel ist zu BC . Nach Voraussetzung sind auch beide Strecken gleich lang, womit alles gezeigt ist.

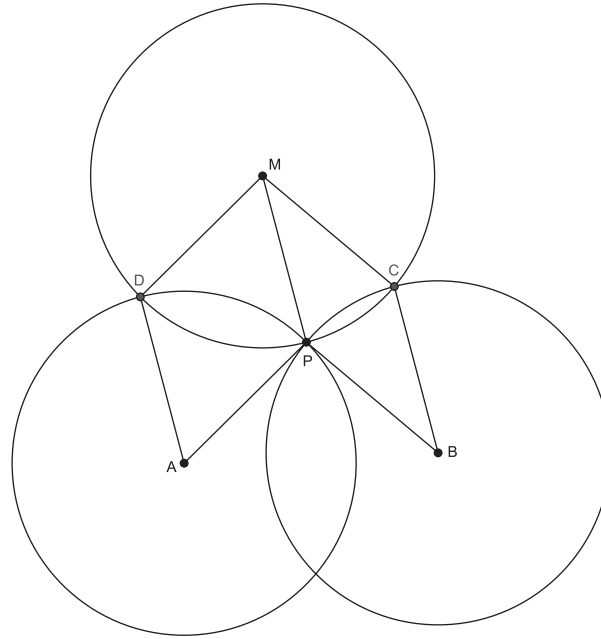


Abbildung 4: Figur zur Lösung von Aufgabe 6

2. Lösung

Wir zeigen $AD \parallel BC$ mit Winkeljagd. Dies und die Tatsache, dass AD und BC nach Voraussetzung gleich lang sind, beendet den Beweis.

Sei $\alpha = \angle DCP$ der Peripheriewinkel in k_3 über der Sehne DP . Weil k_1 und k_3 gleich gross sind, ist der Peripheriewinkel in k_1 über DP ebenfalls α und der entsprechende Zentriwinkel $\angle DAP = 2\alpha$. Das Dreieck APD ist gleichschenkelig und deshalb $\angle ADP = 90^\circ - \alpha$. Analog erhalten wir $\angle BCP = 90^\circ - \beta$, wenn wir β als Peripheriewinkel in k_3 über CP definieren. Mit

$$\angle ADC + \angle BCD = (\beta + 90^\circ - \alpha) + (\alpha + 90^\circ - \beta) = 180^\circ$$

ist $AD \parallel BC$ gezeigt.

7. Seien a, b, c nichtnegative reelle Zahlen mit arithmetischem Mittel $m = \frac{a+b+c}{3}$. Beweise, dass gilt

$$\sqrt{a + \sqrt{b + \sqrt{c}}} + \sqrt{b + \sqrt{c + \sqrt{a}}} + \sqrt{c + \sqrt{a + \sqrt{b}}} \leq 3 \sqrt{m + \sqrt{m + \sqrt{m}}}.$$

Lösung

Sei A die linke Seite der Ungleichung. Nach AM-QM gilt

$$A \leq 3 \sqrt{\frac{1}{3} \left(a + \sqrt{b + \sqrt{c}} + b + \sqrt{c + \sqrt{a}} + c + \sqrt{a + \sqrt{b}} \right)} = 3 \sqrt{m + \frac{1}{3}B}.$$

Wiederum nach AM-QM erhält man für B

$$B \leq 3 \sqrt{\frac{1}{3} \left(b + \sqrt{c} + c + \sqrt{a} + a + \sqrt{b} \right)} = 3 \sqrt{m + \frac{1}{3}C}.$$

Schliesslich erhält man nochmal

$$C \leq 3 \sqrt{\frac{1}{3}(a + b + c)} = 3\sqrt{m}.$$

Rückwärts Einsetzen liefert wie gewünscht

$$A \leq 3 \sqrt{m + \sqrt{m + \sqrt{m}}}.$$

8. Sei $M \subset \{1, 2, 3, \dots, 2007\}$ eine Menge mit folgender Eigenschaft: Unter je drei Zahlen aus M kann man stets zwei auswählen, sodass die eine durch die andere teilbar ist. Wieviele Zahlen kann M höchstens enthalten?

1. Lösung

Zerlege die Menge $\{1, 2, 3, \dots, 2007\}$ wie folgt in 11 Teilmengen:

$$\{1\} \cup \{2, 3\} \cup \{4, 5, 6, 7\} \cup \dots \cup \{256, \dots, 511\} \cup \{512, \dots, 1023\} \cup \{1024, \dots, 2007\}$$

Aus jeder dieser Teilmengen kann M höchstens zwei Zahlen enthalten, denn der Quotient je zwei solcher Zahlen liegt zwischen $\frac{1}{2}$ und 2, ist also sicher nicht ganz. Somit kann M höchstens $1 + 10 \cdot 2 = 21$ Elemente enthalten. Andererseits erfüllt die 21-elementige Menge

$$M = \{1, 2, 4, 8, \dots, 2^{10}\} \cup \{3, 6, 12, 24, \dots, 3 \cdot 2^9\} = A \cup B$$

die Bedingung der Aufgabe, denn von je drei Elementen liegen zwei in derselben Teilmenge A oder B , die kleinere der beiden teilt dann die grössere.

2. Lösung

Für $n \geq 1$ sei A_n die Menge aller natürlichen Zahlen ≤ 2007 , die ein Produkt von genau n Primzahlen sind. Wegen $2^{11} > 2007$ sind die A_n leer für $n \geq 11$. Nun kann

M höchstens zwei Zahlen aus jeder der Mengen A_1, \dots, A_{10} enthalten, denn sind zwei verschiedene natürliche Zahlen das Produkt von gleich vielen Primzahlen, dann kann keine durch die andere teilbar sein. Zusammen mit der Zahl 1 enthält M also höchstens $1 + 10 \cdot 2 = 21$ Elemente.

9. Finde alle Paare (a, b) natürlicher Zahlen, sodass

$$\frac{a^3 + 1}{2ab^2 + 1}$$

eine ganze Zahl ist.

1. Lösung

Nach Voraussetzung ist $2ab^2 + 1$ ein Teiler von $a^3 + 1$, also auch von $a^2(2ab^2 + 1) - 2b^2(a^3 + 1) = a^2 - 2b^2$. Weiter gilt sicher $2b^2 \leq a^2$, denn sonst wäre der Nenner grösser als der Zähler. Der Fall $2b^2 = a^2$ ist nicht möglich, denn sonst wäre 2 eine Quadratzahl. Folglich ist $a^2 - 2b^2 > 0$ und es muss gelten

$$2ab^2 + 1 \leq a^2 - 2b^2 \iff 2b^2(a + 1) \leq (a - 1)(a + 1) \iff 2b^2 \leq a - 1.$$

Weiter ist $2ab^2 + 1$ auch ein Teiler von $a(2ab^2 + 1) - 2b^2(a^2 - 2b^2) = a + 4b^4$. Folglich gilt auch

$$2ab^2 + 1 \leq a + 4b^4 \iff a(2b^2 - 1) \leq (2b^2 + 1)(2b^2 - 1) \iff a \leq 2b^2 + 1.$$

Beide Abschätzungen zusammen ergeben die Gleichung $a = 2b^2 + 1$, also sind die gesuchten Paare alle von der Form $(a, b) = (2n^2 + 1, n)$ mit $n \in \mathbb{N}$. Einsetzen zeigt, dass es auch wirklich Lösungen sind:

$$\frac{a^3 + 1}{2ab^2 + 1} = \frac{a^3 + 1}{a(a - 1) + 1} = a + 1 = 2n^2 + 1.$$

2. Lösung

Wie in der ersten Lösung folgt, dass $2ab^2 + 1$ ein Teiler ist von $a^2 - 2b^2 > 0$. Folglich gibt es eine natürliche Zahl k mit $k(2ab^2 + 1) = a^2 - 2b^2$. Dies ist eine quadratische Gleichung in a :

$$a^2 - 2kb^2a - (2b^2 + k) = 0.$$

Die Diskriminante $D = 4(k^2b^4 + 2b^2 + k)$ muss daher eine Quadratzahl sein. Für $k \geq 2$ gilt aber

$$(kb^2)^2 < k^2b^4 + 2b^2 + k < (kb^2 + 1)^2,$$

folglich liegt der mittlere Term zwischen zwei aufeinanderfolgenden Quadraten und kann nicht selbst eines sein. Es muss daher $k = 1$ sein und wie in der ersten Lösung folgt $a = 2b^2 + 1$.

10. Die Ebene wird in gleichseitige Dreiecke der Seitenlänge 1 unterteilt. Betrachte ein gleichseitiges Dreieck der Seitenlänge n , dessen Seiten auf den Gitterlinien liegen. Auf jedem Gitterpunkt auf dem Rand und im Innern dieses Dreiecks liegt ein Stein. In einem Spielzug wird ein Einheitsdreieck ausgewählt, welches auf genau 2 Ecken mit einem Stein belegt ist. Die beiden Steine werden entfernt, und auf die dritte Ecke wird ein neuer Stein gelegt. Für welche n ist es möglich, dass nach endlich vielen Spielzügen nur noch ein Stein übrig bleibt?

Lösung

Wir zeigen zuerst, dass n durch 3 teilbar sein muss. Färbe dazu jeden Gitterpunkt rot, blau oder grün, sodass jedes Einheitsdreieck drei verschieden farbige Ecken hat. Seien R , B und G die Anzahl belegter roter, blauer und grüner Gitterpunkte. Wir behaupten, dass die drei Grössen

$$R + B, \quad B + G, \quad G + R \pmod{2}$$

sich während eines Spielzugs nicht ändern. Dazu können wir oBdA annehmen, dass auf der roten und der blauen Ecke des Einheitsdreiecks je ein Stein liegt. Nach dem Spielzug liegt nur auf der grünen Ecke ein Stein. Offenbar ändert sich dabei $R + B$ um $-2 \equiv 0$, während $B + G$ und $G + R$ unverändert bleiben.

Falls nun am Schluss nur noch ein Stein übrig bleibt, müssen genau zwei dieser drei Invarianten ungerade sein. Wir nehmen nun an, dass dies bereits am Anfang der Fall ist. Betrachte ein gleichseitiges Dreieck der Seitenlänge n aus Gitterpunkten (auf jeder Seite liegen also $n + 1$ Punkte) und nehme an, einer der drei Eckpunkte sei rot. Betrachte die Winkelhalbierende des Dreiecks durch diesen Eckpunkt. Da die Menge der blauen Gitterpunkte dieses Dreiecks bezüglich der Winkelhalbierenden spiegelsymmetrisch zur Menge der grünen Gitterpunkte liegt, gibt es gleichviele blaue wie grüne Gitterpunkte. Ist nun einer der beiden anderen Eckpunkte nicht rot, dann zeigt eine Wiederholung desselben Arguments, dass das Dreieck gleichviele Gitterpunkte von jeder Farbe enthält, was nicht sein darf. Folglich müssen alle drei Eckpunkte rot sein, also ist n durch 3 teilbar.

Als nächstes zeigen wir, dass es für ein gleichseitiges Dreieck mit durch 3 teilbarer Seitenlänge n möglich ist, alle Steine bis auf einen zu entfernen. Abbildung 5 zeigt drei grundlegende Abfolgen von Spielzügen (Move A,B,C), die wir wiederholt verwenden werden.

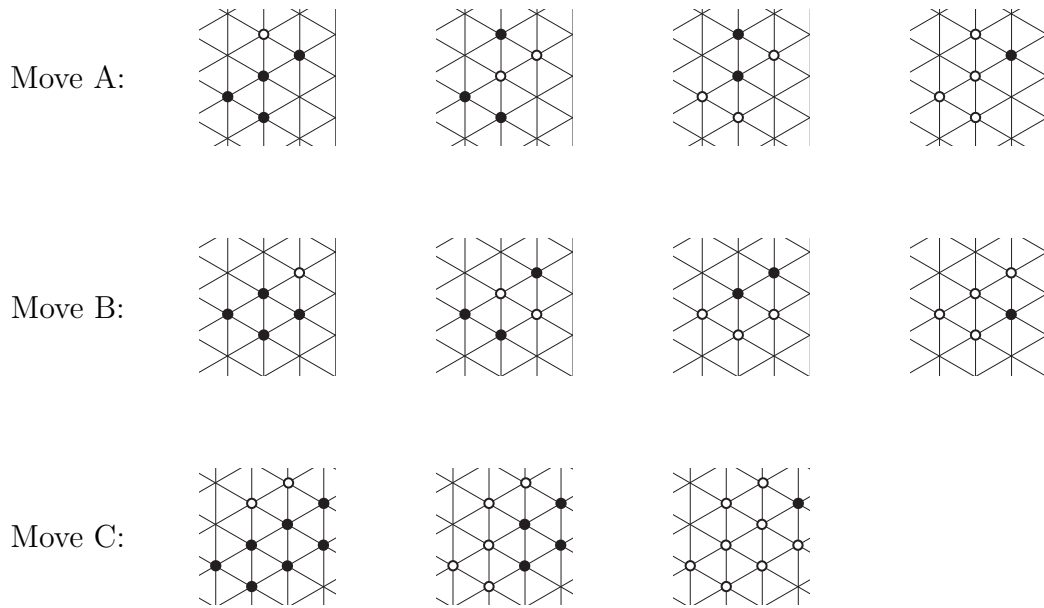


Abbildung 5:

Der Fall $n = 0$ ist trivial. Für $n = 3$ lässt sich das Dreieck durch zweimaliges Anwenden von Move A für zwei Eckdreiecke auf einen Rhombus der Seitenlänge 1 reduzieren. Ein Move B erledigt dann den Rest. Für $n \geq 6$ zeigt Abbildung 6 eine Reduktion des Dreiecks auf ein Dreieck der Seitenlänge $n - 6$ mittels der drei Moves (im Bild das Beispiel $n = 9$). Damit ist alles gezeigt.

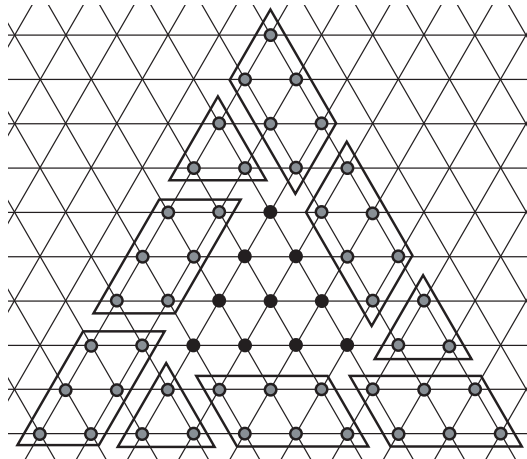


Abbildung 6: Der Reduktionsschritt $n \rightarrow (n - 6)$.